

# SPRAWDZIAN

## URZĄDZENIA KONTROLNE I TABLICE DO OZNACZANIA POJAZDÓW

MASZ DO WYBORU 3 ODPOWIEDZI A B C  
PRAWIDŁOWE ODPOWIEDZI MOGĄ BYĆ A B C.  
MUSISZ ZAZNACZYĆ WSZYSTKIE PRAWIDŁOWE

CZAS NA UDZIELENIE ODPOWIEDZI 1 MINUTA

**POWODZENIA**

A



B



C



Pytanie

Która z tych lampek kontrolnych świecą informuje o jeździe na światłach mijania?

A  
B  
C

A

B

C

Pytanie

Tablicami wyróżniającymi pojazdy samochodowe oraz przyczepy oznakowuje się:

A


samochód ciężarowy, którego dopuszczalna masa całkowita przekracza 12 t, z wyjątkiem ciągnika siodłowego

B

zespół pojazdów składający się z samochodu ciężarowego i przyczepy, którego długość przekracza 8 m

C

zespół pojazdów składający się z samochodu ciężarowego i przyczepy, którego dopuszczalna masa całkowita przekracza 12 t



Pytanie

Tablicę tę umieszcza się:

**A**  
**B**  
**C**

z tyłu samochodu ciężarowego, którego dopuszczalna masa całkowita przekracza 12 t

z tyłu przyczepy, która łącznie z pojazdem samochodowym tworzy zespół o długości przekraczającej 8 m

symetrycznie do osi podłużnej pojazdu

A



B



C



Pytanie

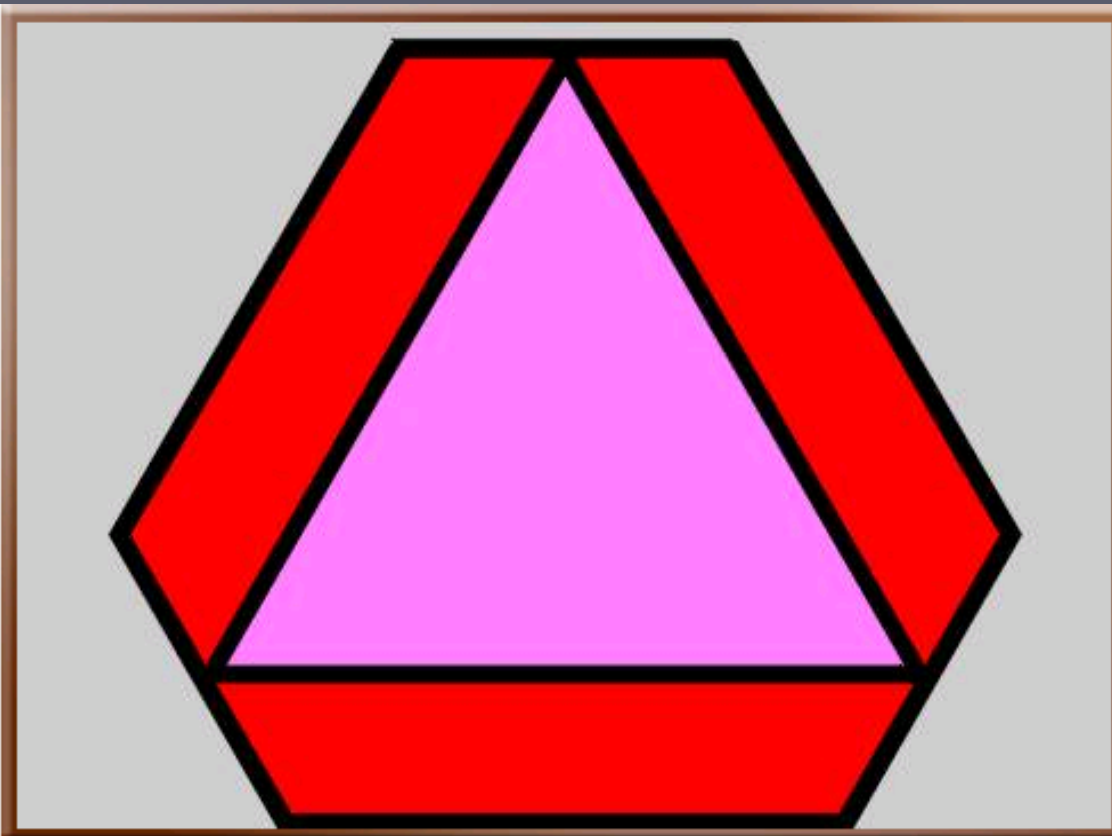
Która z tych lampek kontrolnych po zaświeceniu w czasie jazdy informuje o konieczności niezwłocznego zatrzymania pojazdu?

A  
B  
C

A

B

C



Pytanie

Przed rozpoczęciem jazdy należy umieścić tę tablicę wyróżniającą:

**A**  
**B**  
**C**

z tyłu ciągnika rolniczego, jeżeli nie ciągnie przyczepy

z tyłu przyczepy ciągniętej przez ciągnik rolniczy

prostopadle i symetrycznie do osi podłużnej pojazdu lub po jego lewej stronie oraz prostopadle do powierzchni jezdni



Pytanie

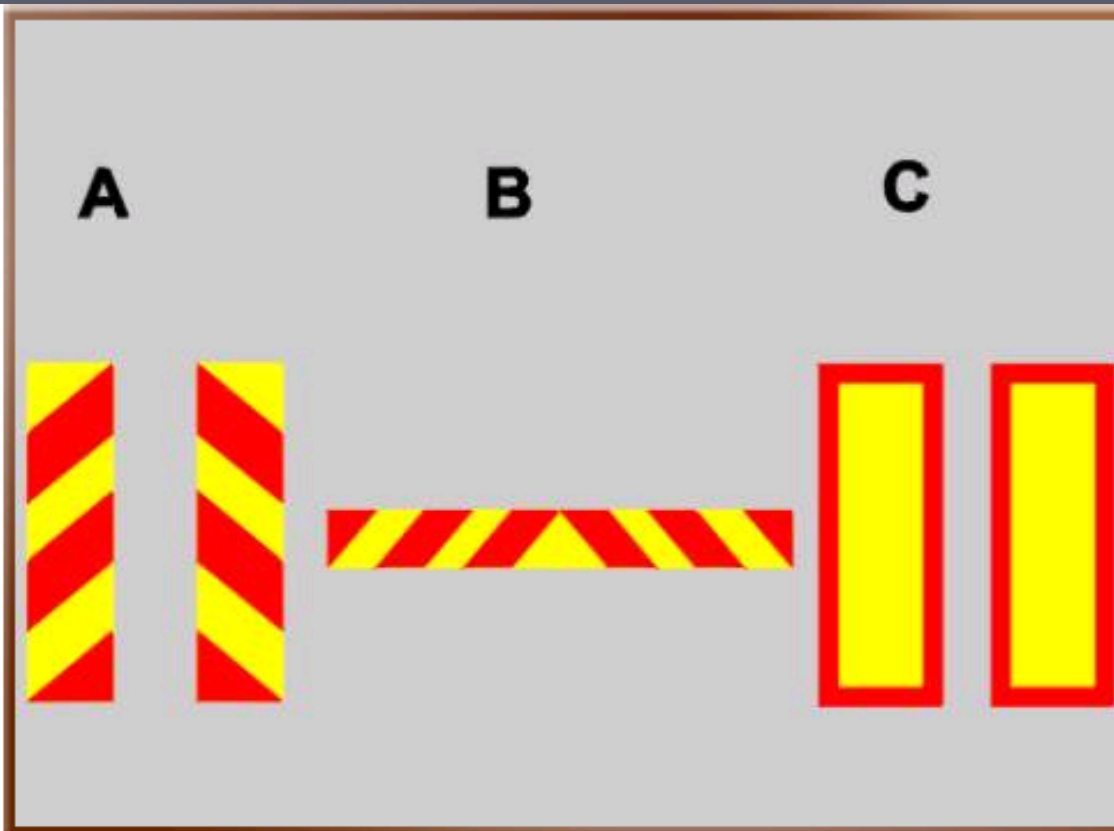
Po zaświeceniu się w czasie jazdy tej lampki kontrolnej należy:

**A**  
**B**  
**C**

wymienić akumulator

zatrzymać pojazd

sprawdzić naciąg paska klinowego



Pytanie

Które tablice mogą być umieszczone z tyłu przyczepy ciągniętej przez samochód ciężarowy, jeżeli długość tego zespołu przekracza 8 m?

**A**  
**B**  
**C**

A

B

C



A



B



C



Pytanie

Która z tych lampek kontrolnych nie powinna świecić się podczas ruszania

A  
B  
C

A

B

C


**A**



**B**



**C**



Pytanie

Która z tych lampek kontrolnych powinna zgasnąć po uruchomieniu silnika

**A**  
**B**  
**C**

A

B

C



Pytanie

Tablice te umieszczone z tyłu na pojeździe oznaczają:

**A**  
**B**  
**C**

pojedynczy pojazd samochodowy

zespół pojazdów

pojazd przewożący materiały niebezpieczne

A



B



C



Pytanie

Która z tych lampek kontrolnych nie powinna świecić się podczas jazdy samochodem w warunkach dobrej widoczności w ciągu dnia?

A  
B  
C

A

B

C

A

B

C



Pytanie

Która z tych lampek kontrolnych świecąc się ostrzega kierującego o zużyciu okładzin hamulcowych?

A  
B  
C

A

B

C

## Prawidłowe odpowiedzi

1.C

2.ABC

3.AC

4.ABC

5.ABC

6.BC

7.C

8.ABC

9.AC

10.B

11.ABC

12.AC